

1. Srovnej vybrané druhy ptáků podle jejich velikosti.

(od největšího po nejmenšího)

HUSA POLNÍ


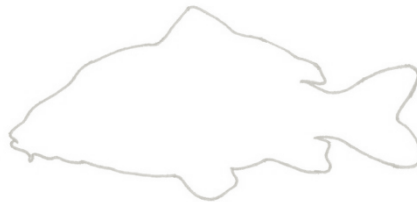

LEDŇÁČEK ŘÍČNÍ

SÝC ROUSNÝ

LABUŤ VELKÁ

RÁKOSNÍK MENŠÍ

2. Přiřaď sladkovodní ryby ke správným obrysům a každou z nich pojmenuj.



3. Která z následujících tvrzení jsou pravdivá?

Sumec velký je největší mořská ryba v Evropě.

Kukačka, lidově zvaná žežulka, snáší svá vejčička do cizích hnízd.

Tchoř loví zejména v průběhu dne, za kořistí se umí i potápět.

4. Vyjmenuj 3 druhy žab, které znáš.



5. V jaké formě se můžeš v přírodě setkat s vodou?

.....

.....

.....

6. Nakresli živočicha, který se Ti na výstavě líbil nejvíce.